

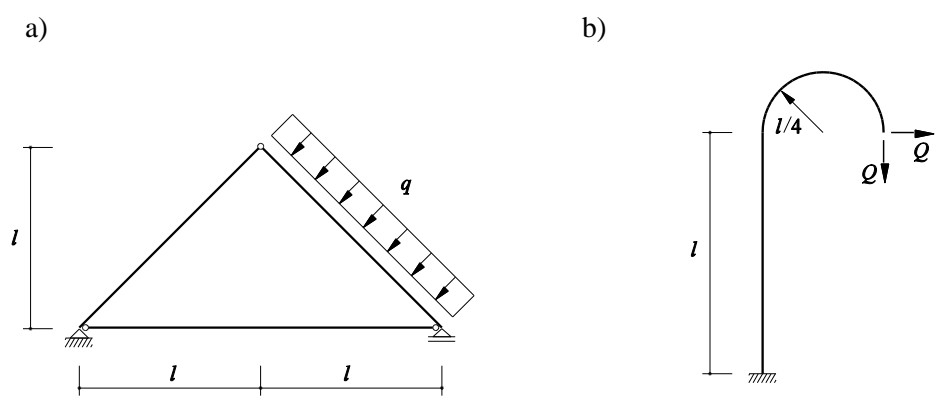
BAUSTATIK I – HAUSÜBUNG 2

(101-0113)

Name:
 Assistent:

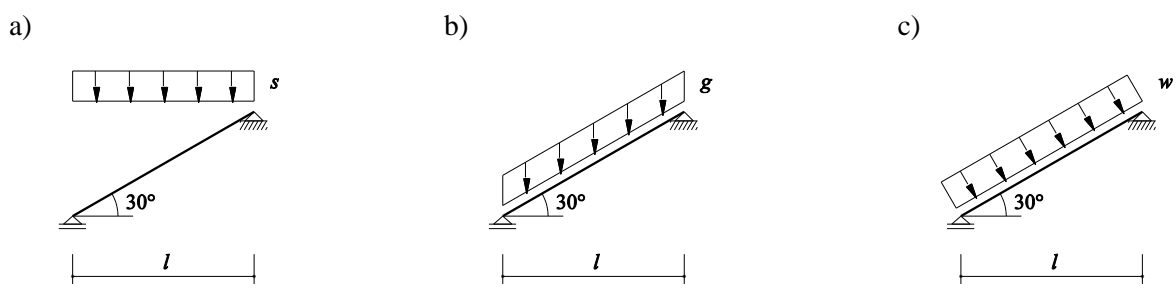
Aufgabe 1

Gegeben: Statisches System und Einwirkung
 Gesucht: Auflagerreaktionen (SKD) und Schnittgrößen (M, V, N)



Aufgabe 2

Gegeben: Statisches System und Einwirkung
 Gesucht: Auflagerreaktionen (SKD) und Schnittgrößen (M, V, N)

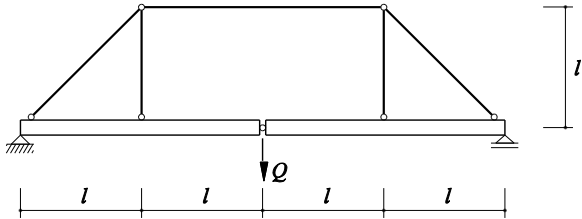


Aufgabe 3

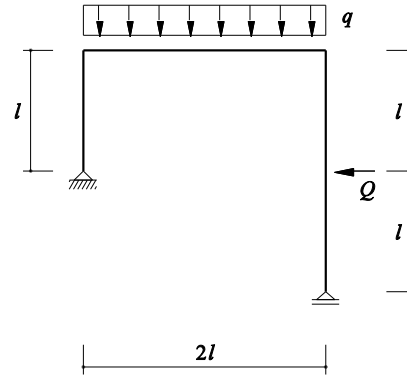
Gegeben: Statisches System und Einwirkung

Gesucht: Auflagerreaktionen (SKD) und Schnittgrößen (M, V, N)

a)



b)



Aufgabe 4

Gegeben: Statisches System und Einwirkung

Gesucht: Auflagerreaktionen (SKD) und Schnittgrößen (M, V, N)

