

**BAUSTATIK I – HAUSÜBUNG 1**

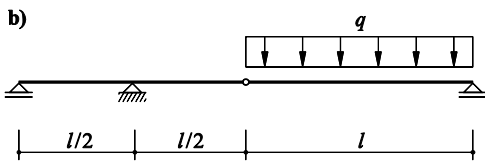
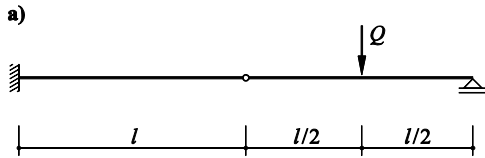
(101-0113)

Name:  
 Assistent:

**Aufgabe 1**

Gegeben: Statisches System und Einwirkung

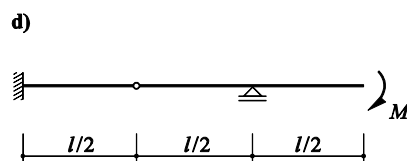
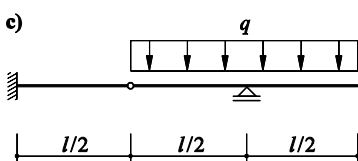
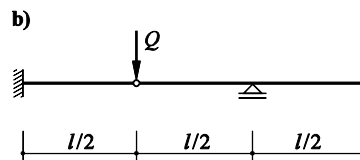
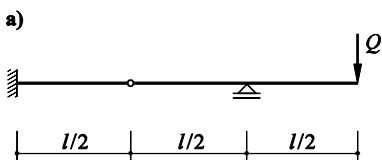
Gesucht: Auflagerreaktionen (SKD) und Schnittgrößen ( $M, V, N$ )

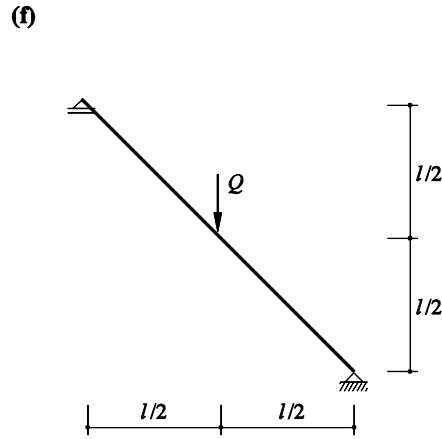
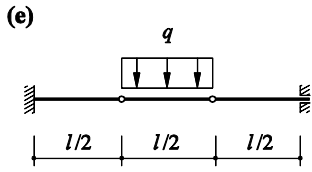


**Aufgabe 2**

Gegeben: Statisches System und Einwirkung

Gesucht: Auflagerreaktionen (SKD) und Schnittgrößen ( $M, V, N$ )

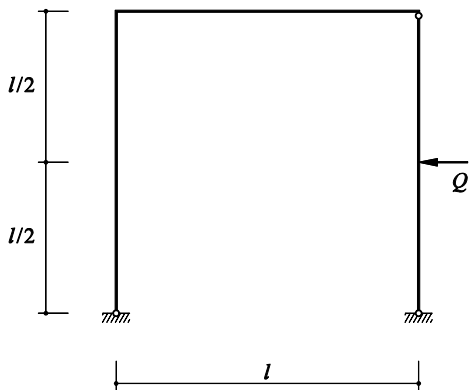




**Aufgabe 3**

Gegeben: Statisches System und Einwirkung

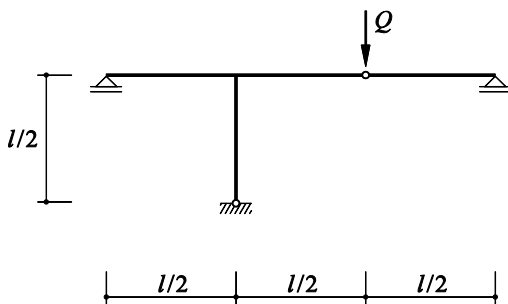
Gesucht: Auflagerreaktionen (SKD) und Schnittgrößen ( $M, V, N$ )



**Aufgabe 4**

Gegeben: Statisches System und Einwirkung

Gesucht: Auflagerreaktionen (SKD) und Schnittgrößen ( $M, V, N$ )



**Aufgabe 5**

Gegeben: Statisches System und Einwirkung

Gesucht: Auflagerreaktionen (SKD) und Schnittgrößen ( $M$ ,  $V$ ,  $N$ )